

MINISTERUL EDUCAȚIEI, CERCETĂRII ȘI TINERETULUI

**CONCURSUL ȘCOLAR DE GEOGRAFIE
ETAPA NAȚIONALĂ
3 – 9 aprilie 2004, FOCȘANI
GEOGRAFIA ROMÂNIEI. PROBLEME FUNDAMENTALE ALE ROMÂNIEI
CLASA a XII-a**

SUBIECTE:

1. În județele Botoșani, Giurgiu, Călărași, Teleorman, Vaslui, după anul 1989, soldurile migrației au fost negative, în timp ce bilanțul migraționar s-a menținut pozitiv în județele Prahova, Timiș, Constanța și Municipiul București. Explicați cele două tipuri de bilanț migraționar.

8 puncte

2. Explicați de ce fenomenele de uscăciune și de secetă sunt apreciate ca cele mai agresive riscuri climatice.

12 puncte

3. Explicați necesitatea dezvoltării durabile a așezărilor umane.

10 puncte

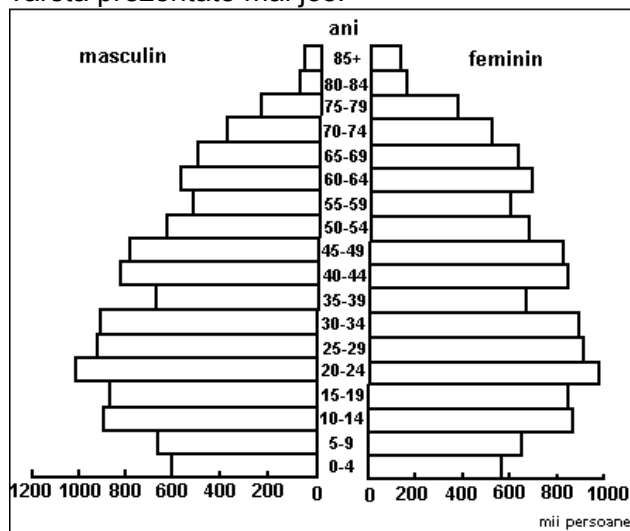
4. Cu privire la Podișul Dobrogei și Podișul Getic precizați deosebirile privitoare la:

- morfostructură;
- influențele climatice și tipurile de climă;
- distribuția rețelei hidrografice;
- asociațiile de vegetație;
- tipurile de sol și caracteristicile lor.

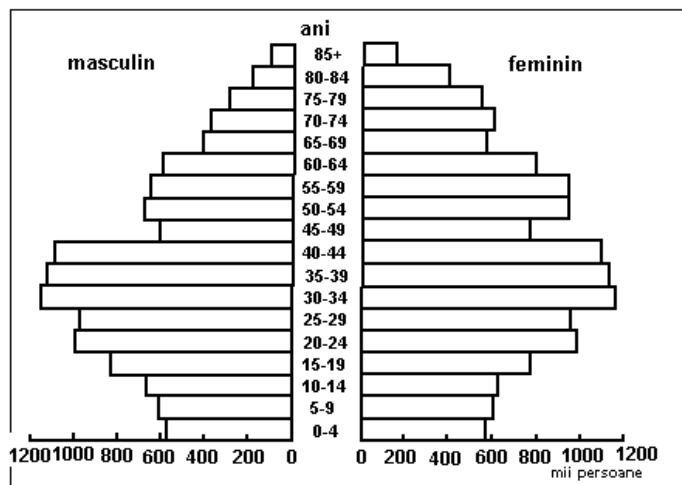
16 puncte

5. Precizați și explicați deosebirile desprinse în urma analizei și comparării diagramelor grupelor de vârstă prezentate mai jos.

12 puncte



Structura populației României pe vârste și sexe (2000)



Structura populației României pe vârste și sexe (2010)

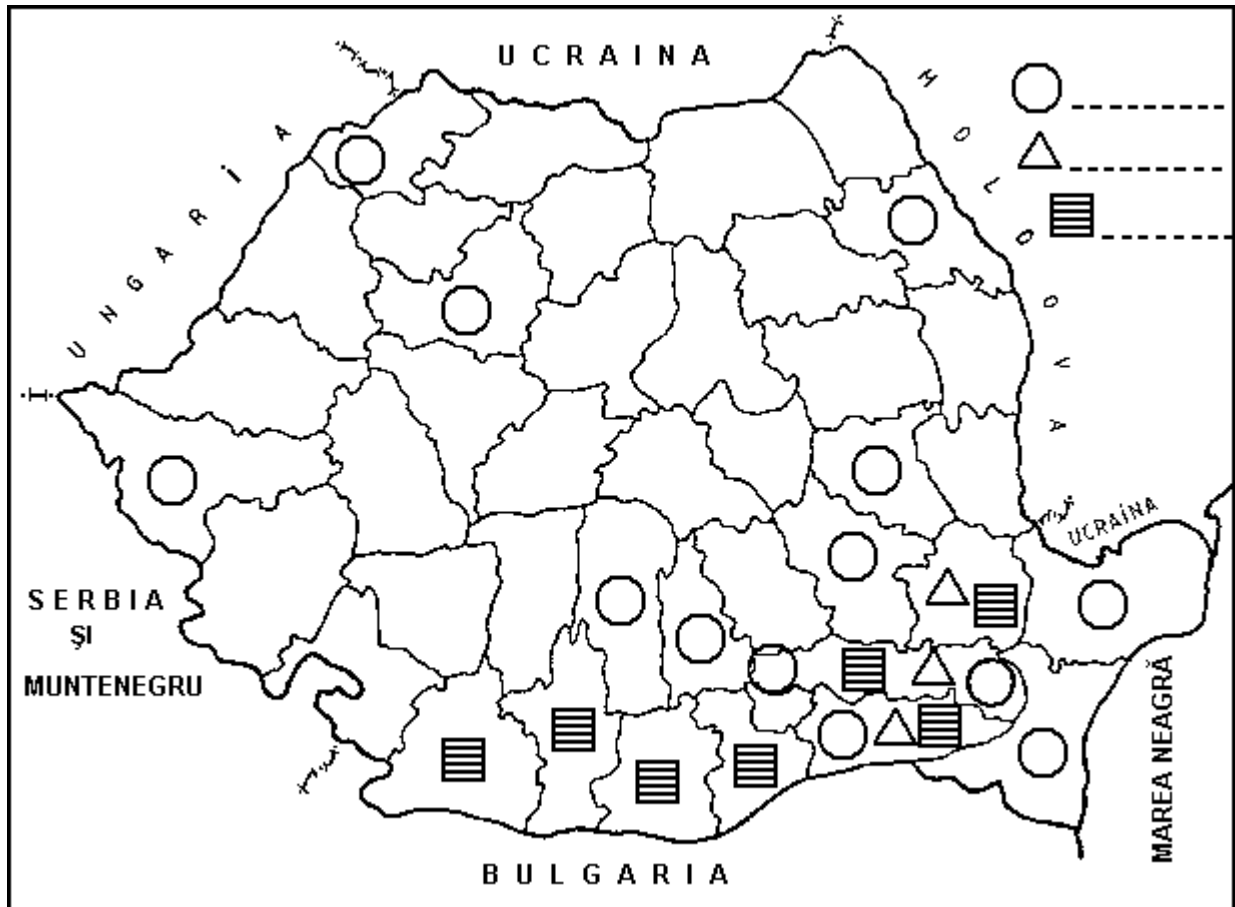
6. Selectați componentele restrictive și de favorabilitate din cele prezentate mai jos, care pot influența amenajarea urbană:

- impactul activităților economice asupra spațiului urban;
- creșterea demografică;
- existența resurselor naturale;
- condițiile de relief;
- frecvența inversiunilor termice;
- resursele de muncă;
- existența serviciilor;
- infrastructura adecvată;
- frecvența calmului atmosferic;

Explicați corectitudinea selecției componentelor menționate mai sus.

11 puncte

7. Analizați harta de mai jos. ▪ Explicați distribuția spațială și precizați originea, folosințele și rentabilitatea economică a culturilor de orez, ricin și mei. ▪ Menționați județele în care s-au cultivat aceste plante în ultimii ani. ▪ Scrieți informația corespunzătoare la legendă. **15 puncte**



8. a. **Precizați** în care sectoare este necesar și se practică transportul de persoane pe Dunăre, pe teritoriul României;
 b. **Explicați** absența diversității climatice în mediul câmpiilor din țara noastră; precizați în care situație sunt frecvente topoclimate în mediul câmpiilor.

6 puncte

Din oficiu: 10 puncte

- Toate subiectele sunt obligatorii; - Timp efectiv de lucru: 3 ore.